



CORREO INSTITUCIONAL DOCENTE: carla.veliz@colegio-mineraelteniente.cl (3°B),
dayson.moreno@colegio-mineraelteniente.cl(3°A),
monica.rodriguez@colegio-mineraelteniente.cl (3°C)

GUIA DE APRENDIZAJE UNIDAD 1 N° DE GUÍA: 1

RECURSO: TEXTO DE ESTUDIO PAGINAS: 18-19

Video educativo: ----

Power Point clase 1 ----

ASIGNATURA: Historia y geografía

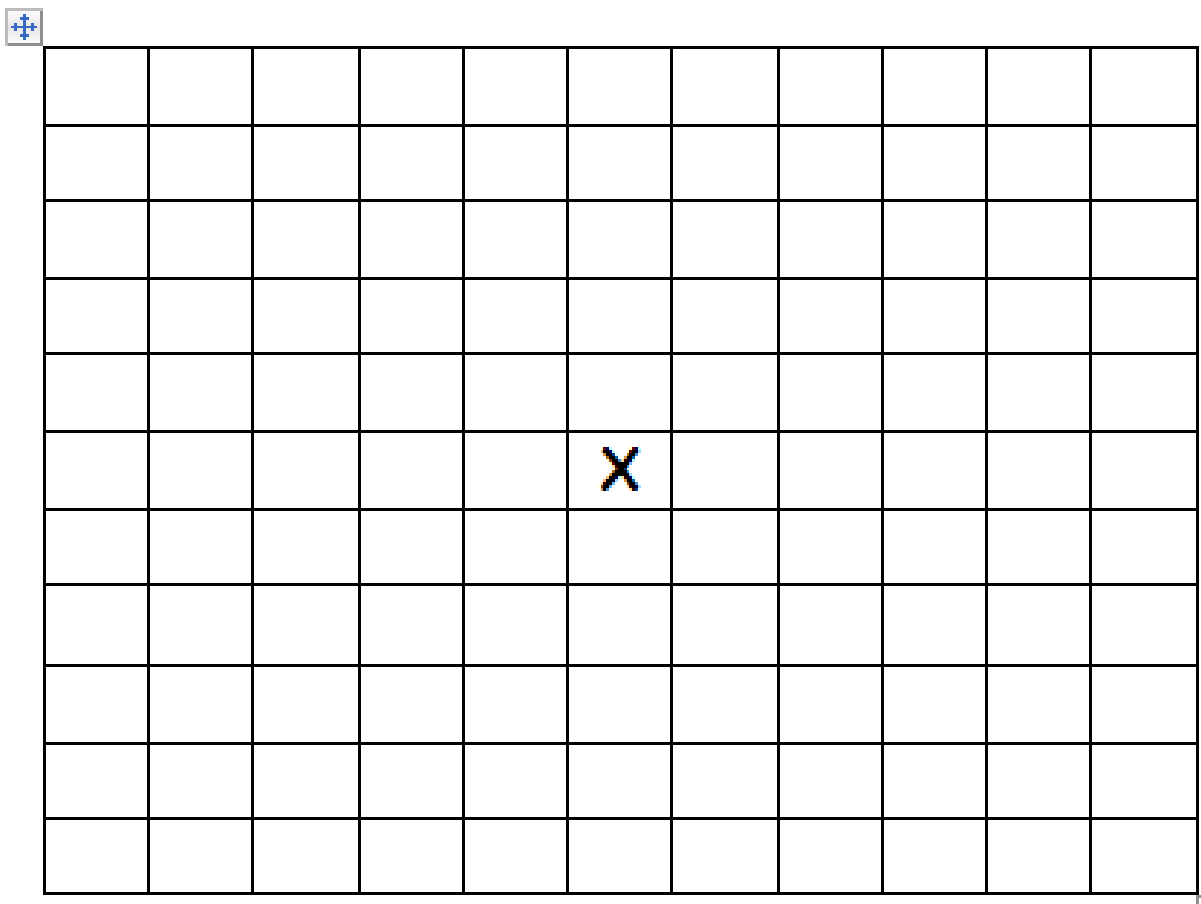
NOMBRE ESTUDIANTE: _____

CURSO: _____ LETRA: _____ FECHA: _____

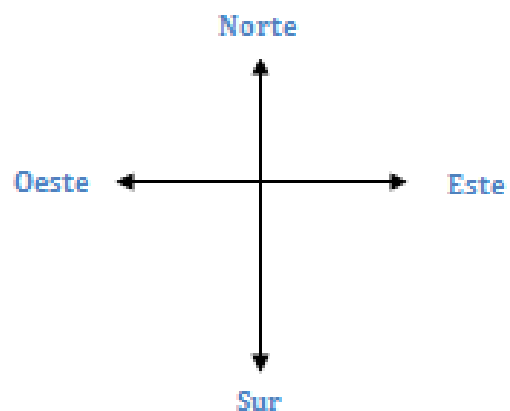
O.A: Ubicar personas, lugares y elementos en una cuadrícula, utilizando líneas de referencia y puntos cardinales.

Búsqueda del tesoro

Pinta el camino que te conduce al tesoro. Comienza en la X.



- 2 cuadrados hacia el norte.
- 3 cuadrados hacia el este.
- 5 cuadrados hacia el sur.
- 6 cuadrados hacia el oeste.
- 2 cuadrados hacia el norte.





CORREO INSTITUCIONAL DOCENTE: carla.veliz@colegio-mineraelteniente.cl (3°B),
dayson.moreno@colegio-mineraelteniente.cl(3°A),
monica.rodriguez@colegio-mineraelteniente.cl (3°C)

GUIA DE APRENDIZAJE UNIDAD 1 N° DE GUÍA: 2

RECURSO: TEXTO DE ESTUDIO

PAGINAS: 20-21

Video educativo: ----

Power Point clase 1 ----

ASIGNATURA: Historia y geografía


NOMBRE ESTUDIANTE: _____

CURSO: _____ LETRA: _____ FECHA: _____

O.A: Ubicar personas, lugares y elementos en una cuadrícula, utilizando líneas de referencia y puntos cardinales.

ACTIVIDAD: UTILIZAR LOS PUNTOS CARDINALES

Ayude a Jaime a celebrar el cumpleaños de Sofía. Para eso, deberá recoger la torta, el regalo y los globos. Siga la línea más oscura para obtenerlos. En las líneas de abajo, describa cómo pudo llegar Jaime donde su amiga y ¡hacerle una fiesta!



Rellene los espacios con el número de cuadrados que Jaime debe avanzar y hacia dónde. La primera parte está escrita, pero luego usted debe escribirlo con sus propias palabras para que pueda llegar al cumpleaños de Sofía.

Primero, Jaime debe avanzar..... cuadrado hacia el..... Luego, deberá seguir hacia elpor cuadrados y de ahí doblar al por cuadrados hasta llegar al REGALO. (Ahora continúe usted con la redacción)

.....
.....
.....
.....