



Equipo PIE

GUIA DE APRENDIZAJE UNIDAD 2 N° DE GUÍA: 13

ASIGNATURA: Matemática

NOMBRE ESTUDIANTE: \_\_\_\_\_

CURSO: 3° LETRA: \_\_\_\_\_ FECHA: \_\_\_\_\_

**Nivel 1 Obj. De priorización 8:** Demostrar que comprenden las tablas de multiplicar hasta 10 de manera progresiva: usando representaciones concretas y pictóricas

## 1.-APRENDIENDO A MULTIPLICAR

**¿Qué es multiplicar?**

- Multiplicar es sumar el mismo número varias veces.








**UAYA, UAYA**

$$5 + 5 + 5 = 15$$

3 veces X 5 manzanas = 15 manzanas


1.- Todos los sacos tienen 3 dulces. Calcula el total de dulces de cada estante:



	$1 \times 3 = \underline{\quad}$ 3
	$2 \times 3 = \underline{\quad}$ $3 + 3 = \underline{\quad}$
	$3 \times 3 = \underline{\quad}$ $3 + 3 + 3 = \underline{\quad}$
	$4 \times 3 = \underline{\quad}$ $3 + 3 + 3 + 3 = \underline{\quad}$

2.- Vamos a calcular:

$$3 + 3 = \dots\dots\dots$$



$$2 \times 3 = \dots\dots\dots$$

$$4 + 4 = \dots\dots\dots$$



$$2 \times 4 = \dots\dots\dots$$

$$1 + 1 = \dots\dots\dots$$



$$2 \times 1 = \dots\dots\dots$$

$$5 + 5 = \dots\dots\dots$$



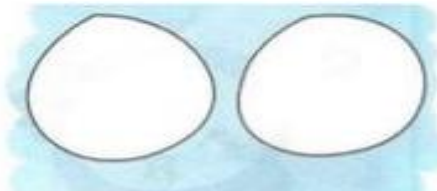
$$2 \times 5 = \dots\dots\dots$$

$$2 + 2 = \dots\dots\dots$$



$$2 \times 2 = \dots\dots\dots$$

$$0 + 0 = \dots\dots\dots$$



$$2 \times 0 = \dots\dots\dots$$

¡¡Te dejaré este link <https://www.youtube.com/watch?v=-d2BBu78NC8>

De la multiplicación, para que te diviertas aprendiendo!!

