



CORREO INSTITUCIONAL DOCENTE: Maritza.medina@colegio-mineraelteniente.cl

GUIA DE APRENDIZAJE UNIDAD 1 N° DE GUÍA: 01

RECURSO: TEXTO DE ESTUDIO PAGINAS: 22 y 23

ASIGNATURA: MATEMÁTICA

NOMBRE ESTUDIANTE: _____

CURSO: Cuarto LETRA: _____ FECHA: _____

O.A: Representar y describir números del 0 al 10 000: › contándolos de 10 en 10, de 100 en 100, de 1 000 en 1 000 › leyéndolos y escribiéndolos › representándolos en forma concreta, pictórica y simbólica › comparándolos y ordenándolos en la recta numérica o tabla posicional › identificando el valor posicional de los dígitos hasta la decena de mil › componiendo y descomponiendo números naturales hasta 10 000 en forma aditiva, de acuerdo a su valor posicional.


Objetivo: Leer y escribir números hasta 10 000.


1. ¿Recuerdas cómo se leen y escriben los números:


Número	Representación	Se lee:
200		Doscientos
300		Trescientos
400		Cuatrocientos
500		Quinientos


Número	Representación	Se lee:
600		Seiscientos
700		Setecientos
800		Ochocientos
900		Novcientos

Observa atentamente la página 22 de tu texto de estudio. De acuerdo a lo que vende don Gabriel en su kiosco, escribe con palabras el precio de los siguientes productos. Pon mucha atención en la ortografía.











CORREO INSTITUCIONAL DOCENTE: Maritza.medina@colegio-mineraelteniente.cl

2. Tu amiga Josefina te llama por el celular pidiéndote un favor. Anota en **cifras** los precios:

 Si una manzana cuesta menos de **trescientos cincuenta pesos**, por favor cómpreme una. Te devolveré el monto.

Precio en cifras _____

 Ayer compré galletas a **doscientos veinte pesos** cada una. Si cuesta menos por favor cómpreme una. Te devolveré el monto.

Precio en cifras _____

3. Completa la siguiente tabla:

Número en cifras	Número en palabras
452	
	Setecientos cuarenta y cinco
	Mil ochocientos cincuenta y siete
2.504	
9.050	
	Ciento noventa y nueve
3.001	
	Cinco mil cuatro
	Cinco mil cuarenta
	Cinco mil cuatrocientos
4.500	
4.050	
4.005	

4. Para jugar en familia:

Construye cuatro tarjetas y escribe un número del 0 al 9 en cada una de ellas.

Luego colócalas una al lado de otra y lee el número que se forma-

Debes buscar el máximo de números que puedes formar con ellas., anótalos y trata de no repetirlos.

¿Cuál es el número más grande que se puede formar con ellas?, ¿y cuál es el número menor?



Número en cifras	Número en palabras
3.574	Tres mil quinientos setenta y cuatro