



GUIA DE APRENDIZAJE: UNIDAD 2	N° DE GUIA :19	FECHA: 19 AL 30 DE OCTUBRE
AMBITO: INTERACCIÓN Y COMPRENSIÓN DEL ENTORNO		NUCLEO: PENSAMIENTO MATEMÁTICO
OA 6 EMPLEAR los números para contar, identificar, cuantificar y comparar...		

TEXTO CALIGRAFIX LÓGICA Y NÚMEROS **PÁGINA 132**

- Visita el siguiente link de **MATERIAL DE APOYO**: <https://youtu.be/DxlGzslfvhc>
- Toma tu banda numérica y realiza un conteo en voz alta de 1 a 16, indicando con tu índice el número que nombras.
- En esta actividad vamos a contar, recuerda que cuando contamos es muy importante hacerlo uno a uno, indicando cada elemento con tu dedo para no equivocarte.
- Cuenta las estrellas y completa dibujando las estrellas que faltan hasta completar 16
- Observa detenidamente la pecera, ¿hay muchos o pocos peces? ¿son todos iguales? ¿en que se diferencian?
- En la actividad 2 debes contar los peces de cada color y registrar en la tabla la cantidad.

GUIA DE APRENDIZAJE: UNIDAD 2	N° DE GUIA :19	FECHA: 19 AL 30 DE OCTUBRE
AMBITO: INTERACCIÓN Y COMPRENSIÓN DEL ENTORNO		NUCLEO: PENSAMIENTO MATEMÁTICO
OA 8 RESOLVER problemas simples de manera concreta y pictórica agregando o quitando hasta 10 elementos ...		

TEXTO CALIGRAFIX LÓGICA Y NÚMEROS **PÁGINA 157**

- En esta actividad trabajaremos nuevamente la resta...para practicar y llegar a la meta...no lo olvides.
- Visita el siguiente link de **MATERIAL DE APOYO**: <https://youtu.be/HvuMleYdhG0>
- Recuerda que cuando restas QUITAS, SACAS ELEMENTOS.
- Resuelve en cada una de las actividades las restas, recuerda que debes completar los recuadros graficando los números que corresponda.
- No olvides la estrategia de tachar lo que quitas o sacas, para no confundirte.

NO IMPRIMA ESTA HOJA, ES SÓLO UN APOYO PARA EL ADULTO QUE AYUDA AL NIÑO O NIÑA A DESARROLLAR LA ACTIVIDAD EN EL TEXTO DE ESTUDIO





ESCRIBE TU NOMBRE Y
 APELLIDO

TEXTO CALIGRAFIX LÓGICA Y NÚMEROS



Página 132 Conteo



Fecha: _____

OA6 PM
TICKET DE SALIDA
NIVEL KINDER

CLASE 19

✓ Cuenta los elementos de cada conjunto y tacha con una X el número que corresponde

					
8	4	5	15	16	17

					
13	14	15	4	6	7

Página 157 Sustracción


Fecha: _____

OA 8 PM
TICKET DE SALIDA
NIVEL KINDER

CLASE 19

✓ Observa, escucha (que un adulto lea para ti) y resuelve. Había 8 pingüinos y se fueron a nadar 3 ¿cuántos quedaron?

✓ Registra en los casilleros los números correspondientes



menoses igual a

-=

NOTA: Esta página se debe imprimir para que el niño/niña responda y luego ser archivada en carpeta junto a las guías trabajadas.

