



CORREO INSTITUCIONAL DOCENTE: francisca.osses@colegio-mineraelteniente.cl(1ºA)
Ximena.soto@colegio-mineraelteniente.cl (1º B) yasna.urbina@colegio-mineraelteniente.cl (1ºC)

GUIA DE APRENDIZAJE UNIDAD 1 N° DE GUÍA: 3

RECURSO: TEXTO DE ESTUDIO PAGINAS: 21 y 77

ASIGNATURA: Matemática

NOMBRE ESTUDIANTE: _____

CURSO: _____ LETRA: _____ FECHA: _____

OA1-Contar números del 0 al 100 de 1 en 1, de 2 en 2, de 5 en 5 y de 10 en 10, hacia adelante y hacia atrás, empezando por cualquier número menor que 100. Leer y contar números del 0 al 20. OA3Leer números del 0 al 20 y representarlos en forma concreta, pictórica y simbólica.

Aquí tienes un video para repasar los números del 0 al 20. Debes apretar (ctrl más el click del mouse sobre la dirección). <https://www.youtube.com/watch?v=d9RFumJiCRA>

10 **Números hasta 10** Pág. 21 10 minutos

1 Pinta.

6	○ ○ ○ ○ ○ ○ ○ ○ ○ ○ ○ ○
7	○ ○ ○ ○ ○ ○ ○ ○ ○ ○ ○ ○
8	○ ○ ○ ○ ○ ○ ○ ○ ○ ○ ○ ○
9	○ ○ ○ ○ ○ ○ ○ ○ ○ ○ ○ ○
10	○ ○ ○ ○ ○ ○ ○ ○ ○ ○ ○ ○

CORREO INSTITUCIONAL DOCENTE: francisca.osses@colegio-mineraelteniente.cl(1ºA)
 Ximena.soto@colegio-mineraelteniente.cl (1º B) yasna.urbina@colegio-mineraelteniente.cl (1ºC)


35 **Números mayores que 10** lexto Pág. 77 **10** minutos

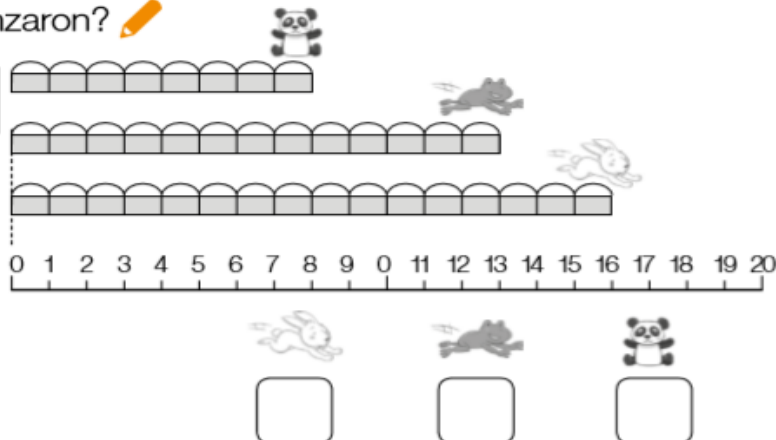
1 Completa. 

a) c)

b) d)

2 ¿Hasta dónde avanzaron? 

Mira el número donde llegaron 



0 1 2 3 4 5 6 7 8 9 10 11 12 13 14 15 16 17 18 19 20









Observa y luego completa estos números y contesta. 

17	12	13	11
19	18	15	16

- a) El número mayor es .
- b) El número menor es .

CORREO INSTITUCIONAL DOCENTE: francisca.osses@colegio-mineraelteniente.cl(1ºA)
 Ximena.soto@colegio-mineraelteniente.cl (1º B) yasna.urbina@colegio-mineraelteniente.cl (1ºC)

2) Cuenta los elementos y escribe el número:

	<input type="text"/>
	<input type="text"/>
	<input type="text"/>
	<input type="text"/>
	<input type="text"/>
	<input type="text"/>
	<input type="text"/>
	<input type="text"/>

3.- Completa la tabla con números del 0 al 20:

0		2			5	6				10
	12			15				19	20	