



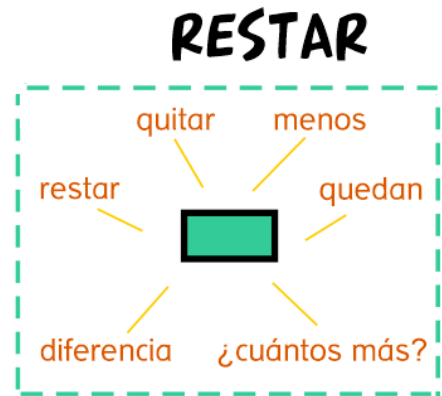
GUIA DE APRENDIZAJE UNIDAD 1 N° DE GUÍA: 19

ASIGNATURA: Matemática

NOMBRE ESTUDIANTE:

CURSO: 1° básico LETRA: FECHA: _____

OA 09: Demostrar que comprenden la adición y la sustracción de números del 0 al 20 progresivamente, de 0 a 5, de 6 a 10, de 11 a 20 con dos sumandos: usando un lenguaje cotidiano para describir acciones desde su propia experiencia...



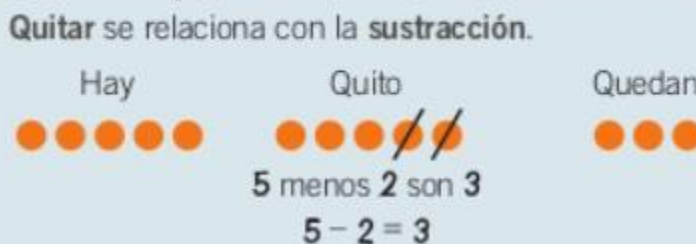
1. Observa la siguiente imagen y responde:



- Si  se come 2  de las que tenía, ¿cuántas  le quedarán? Dibújalas.

recuerda

- Cuando se **quitan** elementos a una colección, se **restan**.





2. Observa y responde:




Hay .

Se van .





=

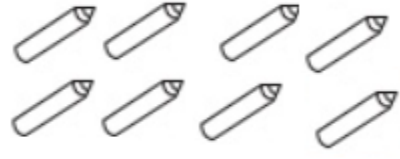
Quedan .

Papá tenía 6 pelotas.
 Regaló 2 a José.
 ¿Cuántas pelotas le quedaron?



=

De 8 , 5 son  y los demás . ¿Cuántos son .



menos son

=

3. Ahora, desarrolla las siguientes restas con apoyo de material concreto (porotos, fosforos, tapas, etc.)

$$5 - 3 = \underline{\quad}$$

$$2 - 2 = \underline{\quad}$$

$$7 - 5 = \underline{\quad}$$

$$2 - 1 = \underline{\quad}$$

$$10 - 5 = \underline{\quad}$$

$$6 - 4 = \underline{\quad}$$