

INSTITUCIONAL DOCENTE: francisca.osse@colegio-mineralelteniente.cl(1°A)  
marcela.jimenez@colegio-mineralelteniente.cl(1°B)  
[Yasna.urbina@colegio-](mailto:Yasna.urbina@colegio-mineralelteniente.cl) mineralelteniente.cl(1°C)

GUIA DE APRENDIZAJE

GUÍA: N°20

UNIDAD 3

RECURSO : TEXTO DEL ESTUDIANTE 2

PAGINAS: 53

ASIGNATURA: Matemática

NOMBRE ESTUDIANTE: \_\_\_\_\_

CURSO: \_\_\_\_\_ LETRA: \_\_\_\_\_ FECHA: \_\_\_\_\_

Objetivo: OA09 Seleccionar una adición o sustracción para resolver un problema dado.

1.-Escucha con atención lo que te leerán

Observa y responde



- Luego de que Daniela haga su donación, ¿habrá más o menos libros? Encierra tu respuesta.

Más libros

Menos libros

- ¿Qué acción se debe realizar para saber la cantidad total de libros que habrá luego de que Daniela haga su donación? Enciérrala.

Quitar

Agregar

- ¿Qué operación se asocia a esa acción? Enciérrala.

Adición

Sustracción







Había 4 ratones comiendo queso. Luego, llegaron 2 ratones más.  
¿Cuántos ratones hay en el queso ahora?







Formule un cuento de suma o resta según corresponda al dibujo. Marque con una cruz la operación que debe realizar.

1	 	<input checked="" type="radio"/> + <input type="radio"/> -
2	 	<input type="radio"/> + <input checked="" type="radio"/> -
3	 	<input type="radio"/> + <input checked="" type="radio"/> -

3.- Lee los siguientes problemas matemáticos e identifica que operación debemos utilizar para resolverlos. Marca con una X según corresponda.

a) Mi mamá me regaló 12 dulces y compartí 9 dulces con mi hermana ¿cuántos dulces me quedaron?

Operación que debo utilizar:

Suma

Resta

B) Josefina cortó flores de su jardín 5 flores rojas, 6 flores amarillas y 8 rosadas.

¿Cuántas flores reunió en total?

Operación que debo utilizar:

Suma

Resta

C) Estoy leyendo un libro que tiene 25 páginas. Ya he leído 18 ¿cuántas páginas me quedan por leer?

Operación que debo utilizar:

Suma

Resta

D) Vicente tiene 11 manzanas, Baltazar tiene 5 y Antonia tiene 3. Si juntan todas las manzanas en una cesta ¿cuántas manzanas tienen?

Operación que debo utilizar:

Suma

Resta

4.- Marca la alternativa correcta



a) 7

b) 5

c) 6



a) 8

b) 7

c) 6