





NOMBRE ESTUDIANTE: \_\_\_\_\_

CURSO: 2° Básico LETRA: \_\_\_\_\_ FECHA: \_\_\_\_\_

O.A 3

**NO ES NECESARIO IMPRIMIR**, las respuestas pueden ser desarrolladas en el cuaderno de CIENCIAS NATURALES.

/// TICKET DE SALIDA ///	
¿En cuántas partes tienen dividido los arácnidos su cuerpo?	
a) tres partes b) dos partes	
Encierra los invertebrados marinos.	
	
	
¿Cuántas patas tienen los arácnidos?	
a) 6 patas b) 8 patas	