

GUIA DE APRENDIZAJE UNIDAD 1

N° DE GUÍA: 1

RECURSO: TEXTO DE ESTUDIO

PÁGINAS: 5 - 8

ASIGNATURA: MATEMÁTICA

NOMBRE ESTUDIANTE: _____


CURSO: 2° Básico LETRA: _____ FECHA: _____

O.A: Contar números del 1 al 100, de uno en uno. Determinar unidades y decenas en números del 0 al 20, agrupando de a 10.

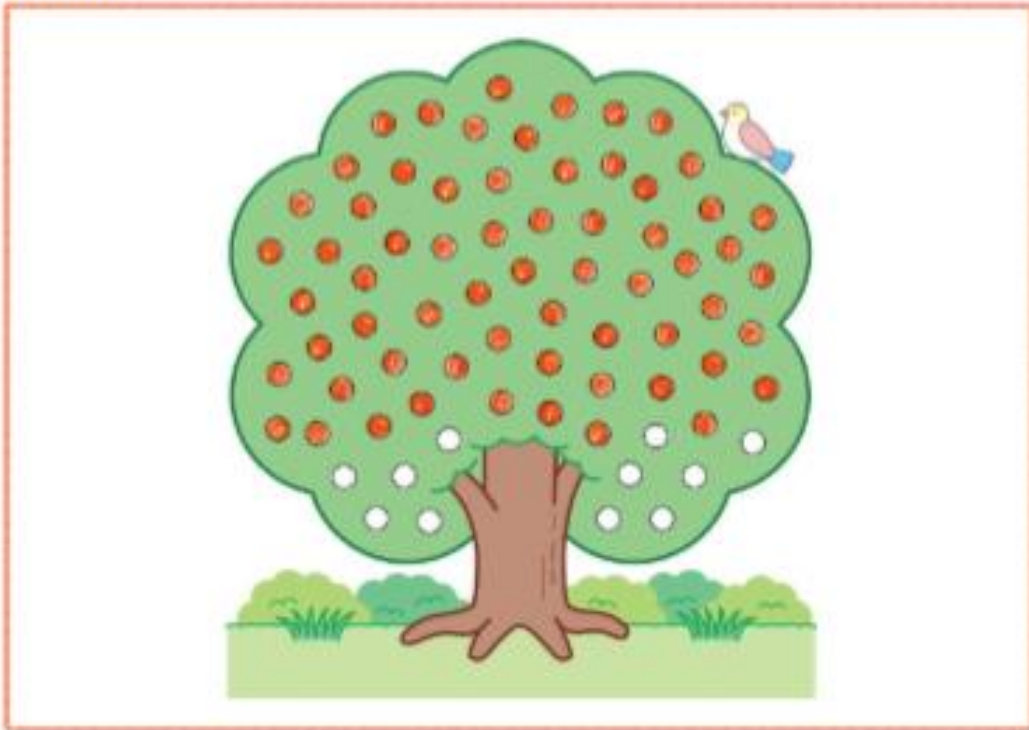
Actividades semana N° 1

DÍA 1: CONTAMOS HASTA 100.

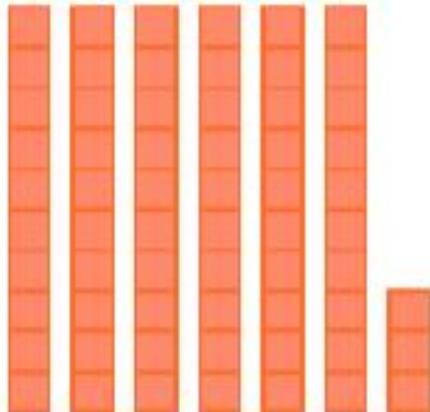
Pide a algún adulto que tome un minuto en un reloj.
¿Cuántos puntos alcanzas a pintar?





Isabel pintó los puntos del dibujo. ¿Cuántos puntos pintó?








Los representó con cubos, ayúdala a completar los espacios en blanco:




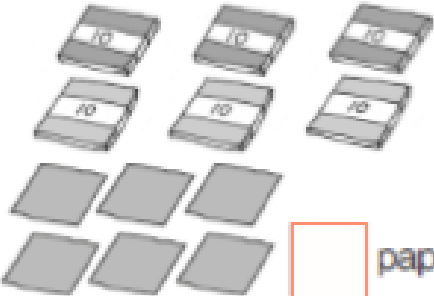
Decenas	Unidades
	
<input type="text"/>	<input type="text"/>

en el lugar de las decenas
 en el de las unidades, por lo tanto es

1. ¿Cuántos cubos hay?

Decenas	Unidades	Decenas	Unidades	Decenas	Unidades
					
<input style="width: 100%; height: 100%;" type="text"/>	<input style="width: 100%; height: 100%;" type="text"/>	<input style="width: 100%; height: 100%;" type="text"/>	<input style="width: 100%; height: 100%;" type="text"/>	<input style="width: 100%; height: 100%;" type="text"/>	<input style="width: 100%; height: 100%;" type="text"/>

2. ¿Cuántos hay?

 <input style="width: 40px; height: 20px;" type="text"/> lápices.	 <input style="width: 40px; height: 20px;" type="text"/> papeles.
--	---

3. Completa:

- 8 decenas y 4 unidades son:

- 7 decenas son:

- 6 decenas y 2 unidades son:

- 5 decenas y 9 unidades son: