

UNIDADES



Y


DECENAS



MATERIAL DE APOYO - SEGUNDOS BÁSICOS

2020

Unidades



Unidad

¿Cuántas unidades tenemos?



Unidades


¿Cuántas unidades tenemos?



10 = **1**

Unidades

Decena



Decenas



1 **Decena**

Sumando **Unidades** formamos
Decenas

$1 + 9$

$6 + 4$

$2 + 8$

$8 + 2$

$3 + 7$

$9 + 1$

$4 + 6$

$5 + 5$

Una **DECENA** la forman 10
UNIDADES



1 DECENA

10
UNIDADES

1D = 10 unidades

Una decena son: 10 unidades

1 DECENA



1 2 3 4 5 6 7 8 9 10



¿Cuántas Decenas tenemos?



=


2

Decenas

21 2 decenas, 1 unidad



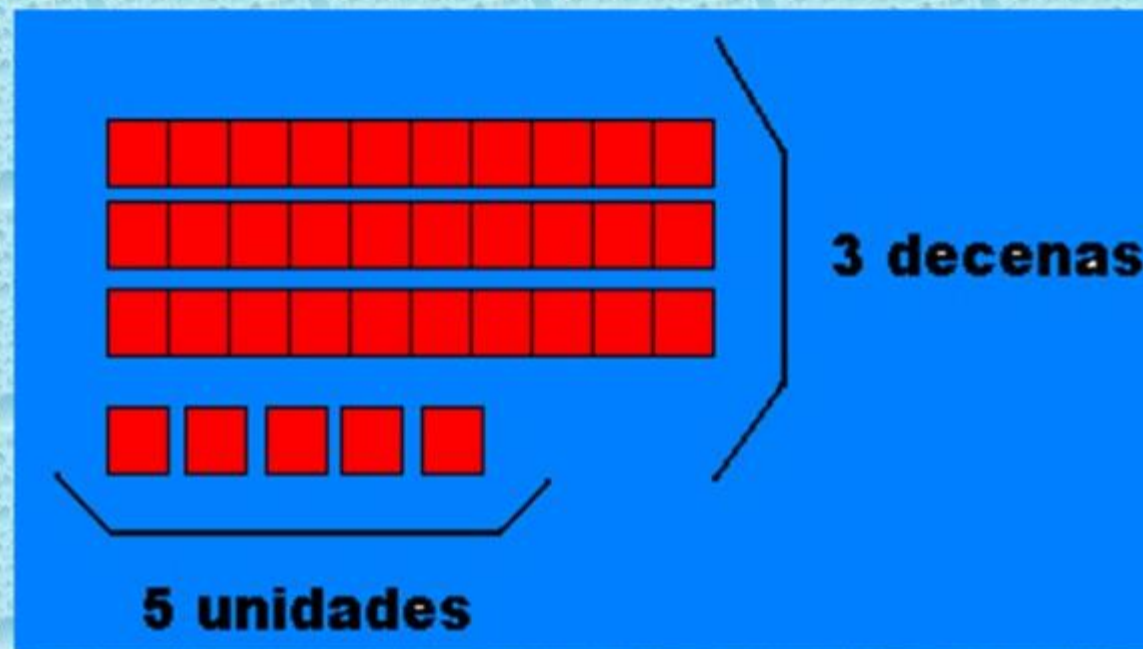
¿Cuántas decenas y unidades?



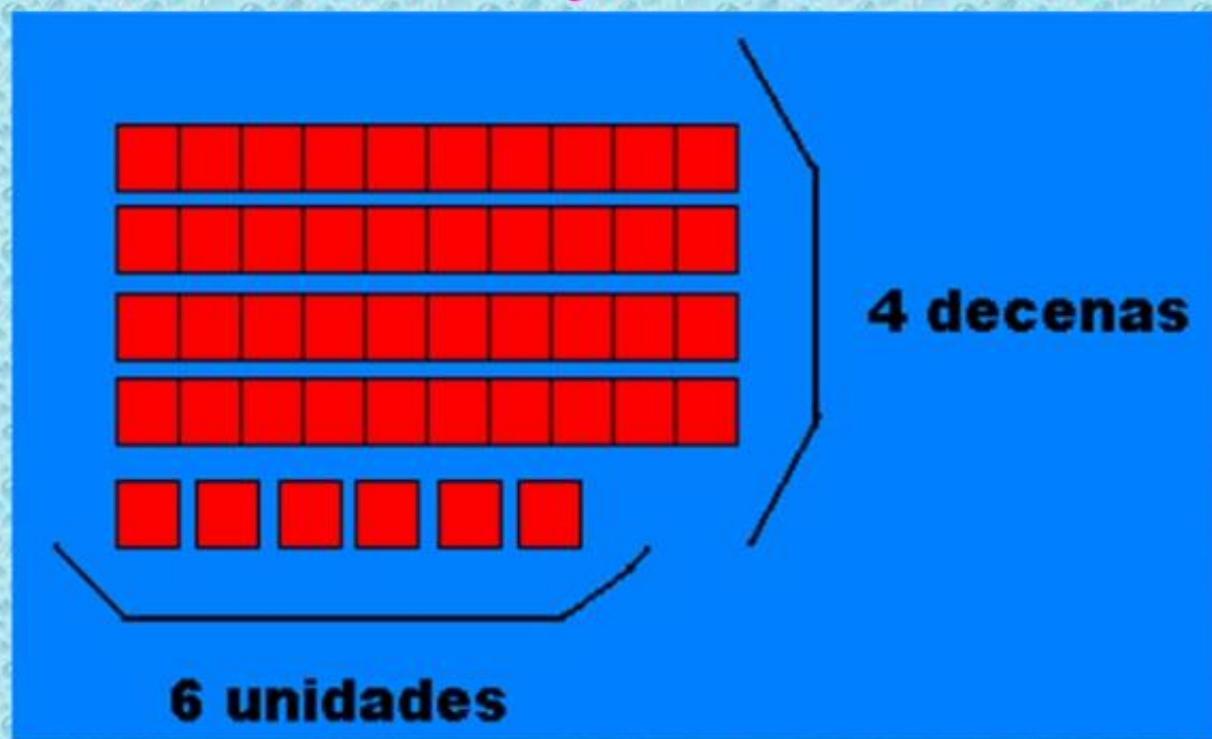
23

2D y 3U

Este es el número 35.... Porque tiene 3 decenas y 5 unidades . . .



Este es el número 46.... Porque tiene 4 decenas y 6 unidades . . .



Este es el número 51.... Porque tiene 5 decenas y 1 unidad . . .



Tablero Posicional

	
DECENAS	UNIDADES
3	4

Las unidades las reconoceré siempre con azul y con la letra U:



D	U
1	9
1	0
2	9



ES EL DÍGITO DE LA DERECHA

Las **decenas** las reconoceré siempre con rojo y con la letra D:



D	U
1	7
1	2
2	9



ES EL DÍGITO DE LA IZQUIERDA