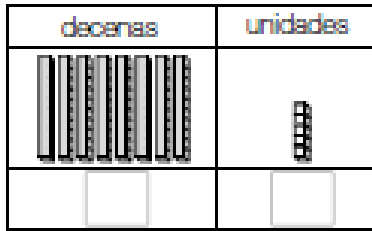


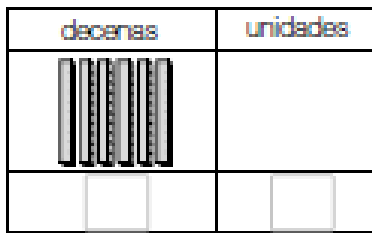
# ¿Cuánto aprendí?

**1** ¿Cuántos cubos hay?



unidades.

**2**




unidades.

**3**



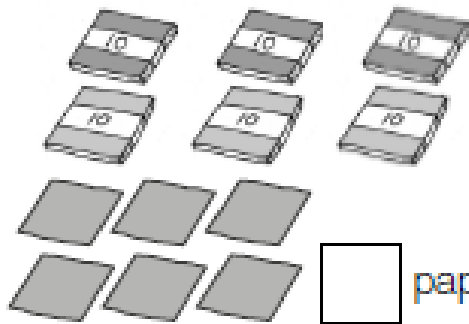
unidades.

**4** ¿Cuántos hay?



lápices.

**5** ¿Cuántos papeles lustre hay?



papeles.

**6** Completa.

a) 9 decenas y 4 unidades son:

b) 7 decenas y 8 unidades son:

c) 6 decenas son:

d) 8 decenas y 2 unidades son:

e) 9 decenas y 5 unidades son: