

RECURSO: TEXTO DE ESTUDIO PAGINAS: 22 y 23

ASIGNATURA: MATEMÁTICA

NOMBRE ESTUDIANTE: _____

CURSO: Quinto LETRA: _____ FECHA: _____

O.A: Representar y describir números de hasta más de 6 dígitos y menores que 1 000 millones: identificando el valor posicional de los dígitos

Objetivo: Expresar en cifras y palabras los números hasta el 1.000.000 identificando valor posicional de sus dígitos.

Desarrollo

-Busca el link <https://www.youtube.com/watch?v=MmYREItV0oo> observa atentamente y practica.

Escribe los siguientes números con palabras y en una tabla de valor posicional:

1. 625 821






















2. 173 493

Escribe el siguiente número con cifras y en una tabla de valor posicional:

3. Doscientos cuarenta y seis mil ochenta y siete.

4. Cuatrocientos cincuenta mil trescientos dos.

• Comparemos tus resultados las respuestas de esta tabla:

Con cifras	Centena de mil	Decenas de mil	Unidad de mil	Centenas	Decenas	Unidades	Con palabras
625 821							Seiscientos veinticinco mil ochocientos veintiuno.
173 493							Ciento setenta y tres mil cuatrocientos noventa y tres.
246 087							Doscientos cuarenta y seis mil ochenta y siete.
450 302							Cuatrocientos cincuenta mil trescientos dos.

(en la tabla, para representar el valor posicional puedes ocupar círculos, cruces u otro símbolo)



Vamos a la **página 22** de tu texto estudiantil y responde en tu cuaderno las actividades

4, 5. Compara tus respuestas con las del solucionario en la **página 326**.

A partir de los resultados que obtuviste, piensa qué podrías hacer para reforzar lo que falta por aprender.

Ahora que ya sabes cómo estás para partir esta clase, vamos a repasar con algunos ejercicios más, para que te sientas más seguro.

