

CORREO INSTITUCIONAL DOCENTE: eduardo.vera@colegiomineralelteniente.cl

GUÍA DE APRENDIZAJE UNIDAD 1 N°: 8

RECURSO: TEXTO DE ESTUDIO PAGINAS: 36

ASIGNATURA: Matemática _____

NOMBRE ESTUDIANTE: _____


CURSO: 7° Año Básico LETRA: _____ FECHA: _____

Objetivo: Mostrar que comprenden el concepto de porcentaje: Representándolo de manera pictórica.


Representación de porcentajes

1. Representa en cada cuadrícula los siguientes porcentajes.


a. 36 %



b. 84 %

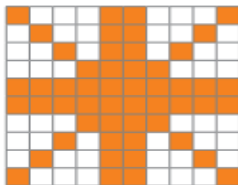


c. 60 %

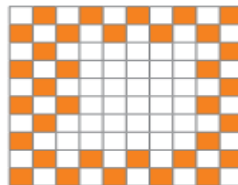


2. Escribe el porcentaje representado en cada cuadrícula.

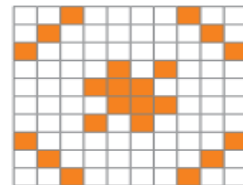
a.



b.



c.



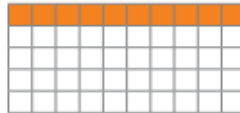
3. Representa cada enunciado con un porcentaje.

a. 40 de cada 100 letras se escriben con lápiz rojo.

CORREO INSTITUCIONAL DOCENTE: eduardo.vera@colegiomineraelteniente.cl

5. Representa gráficamente el porcentaje de cada número.

10% de 50



a. 20% de 20

c. 75% de 92

b. 12,5% de 200

d. 1% de 25

6. Completa la tabla con las representaciones de los porcentajes solicitados.

Porcentaje	Representación decimal	Representación fraccionaria	Representación gráfica (gráfico circular)
55%			•
80%			
90%			

7. Une los porcentajes de la columna A con su representación en fracción de la columna B.

Columna A

Columna B

a. 47%

$\frac{4}{5}$

b. 12%

$\frac{3}{20}$

c. 15%

$\frac{3}{25}$

d. 80%

$\frac{47}{100}$

UNIDAD TECNICO PEDAGOGICO 2020 –APRENDIENDO EN LINEA MINERAL



CORREO INSTITUCIONAL DOCENTE: eduardo.vera@colegiomineralelteniente.cl